

При выполнении заданий с кратким ответом впишите в поле для ответа цифру, которая соответствует номеру правильного ответа, или число, слово, последовательность букв (слов) или цифр. Ответ следует записывать без пробелов и каких-либо дополнительных символов.

В заданиях, где нужно установить соответствие между двумя столбцами, ответ запишите в виде сочетания букв и цифр, соблюдая алфавитную последовательность букв левого столбца. Некоторые данные правого столбца могут использоваться несколько раз или не использоваться вообще. Например: А1Б1В4Г2.

Если вариант задан учителем, вы можете вписать или загрузить в систему ответы к заданиям с развернутым ответом. Учитель увидит результаты выполнения заданий с кратким ответом и сможет оценить загруженные ответы к заданиям с развернутым ответом. Выставленные учителем баллы отобразятся в вашей статистике.

1. Определите ВЕРНОЕ утверждение:

- 1) при повышении температуры относительная влажность воздуха возрастает
- 2) летний муссон дует с суши на море
- 3) для циклона характерно пониженное атмосферное давление воздуха в центре
- 4) для экваториальных широт характерно повышенное атмосферное давление в течение года

2.

На карте Европы точкой отмечено устье реки:

- 1) Луара 2) Дунай
- 3) Темза 4) Висла



Карта составлена по состоянию на 01.01.2016

3. Укажите государства с высокой средней продолжительностью жизни населения:

- 1) Мьянма, Мали 2) Швейцария, Италия 3) Эфиопия, Индия
- 4) Египет, Мексика

4. Укажите ОШИБОЧНОЕ утверждение в характеристике Антарктиды:

- 1) площадь Антарктиды больше площади Австралии
- 2) подледный рельеф сильно расчленен
- 3) в течение нескольких летних месяцев в Антарктиде продолжается полярная ночь
- 4) на свободных ото льда участках материка встречаются лишайники

5. Географию мирового транспорта характеризует:

- 1) наибольшая густота железных дорог в Азии
- 2) обеспечение автомобильным транспортом основных объемов грузоперевозок в Австралии
- 3) наибольшая протяженность трубопроводов в транспортной сети мира
- 4) мировое лидерство Великобритании по тоннажу торгового флота

6. Для климата Беларуси характерна(-о):

- 1) большая продолжительность дня летом на юге страны по сравнению с севером
- 2) понижение средней температуры воздуха в январе в направлении с юго-запада на северо-восток
- 3) наибольшая относительная влажность воздуха летом
- 4) выпадение наибольшего годового количества осадков на Полоцкой низменности

7. Для Австралии характерна(-о):

- 1) самая низкая в сравнении с другими материками средняя абсолютная высота рельефа
- 2) расположение северной части материка в экваториальном климатическом поясе
- 3) наличие незначительных запасов подземных вод
- 4) распространение природной зоны переменного-влажных (в том числе муссонных) лесов на северо-западе материка

8. Относительно географического положения Беларуси ВЕРНЫМ является утверждение:

- 1) территория страны простирается от 55° с. ш. до 65° с. ш.
- 2) с Польшей граничат Гродненская и Брестская области
- 3) на территории страны отсутствуют участки трансконтинентальных железнодорожных магистралей
- 4) государственную границу с Россией пересекает река Березина

9. География черной металлургии мира характеризуется:

- 1) основными транспортными потоками железной руды в Южную Америку
- 2) ростом международной торговли железным ломом
- 3) отсутствием твердых и газообразных отходов при производстве чугуна
- 4) размещением производств исключительно вблизи сырьевой базы

10. Совокупность всех представителей растительного и животного мира, природных комплексов, которые сформировались в процессе развития жизни на Земле, — это:

- 1) тайга; 2) степи и лесостепи; 3) биота;
- 4) природное разнообразие; 5) природопользование.

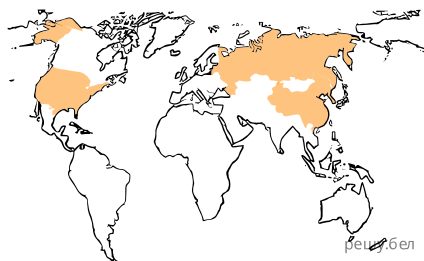
11. Укажите ОШИБОЧНОЕ утверждение:

- 1) в геологическом прошлом Антарктида входила в состав Гондваны
- 2) горы Карпаты относятся к древнему складчатому поясу
- 3) Бразильское плоскогорье приурочено к щиту Южно-Американской платформы
- 4) высшая точка Австралии — гора Косцюшко — расположена в Австралийских Альпах
- 5) через горы Юго-Восточной Азии протянулся оловянно-вольфрамовый пояс

12.

На карте цветом выделены три государства, которые в международном разделении труда являются ведущими по:

- 1) добыче угля
- 2) выплавке стали
- 3) производству кукурузы
- 4) протяженности железных дорог



Карта составлена по состоянию на 01.01.2015

13. Для гидрографии Поозерской физико-географической провинции характерна(-о):

- 1) принадлежность большей части территории к бассейну реки Западной Двины
- 2) преимущественно грунтовое питание рек

- 3) отсутствие весеннего половодья на реках
- 4) наличие крупнейшего водохранилища — Вилейского

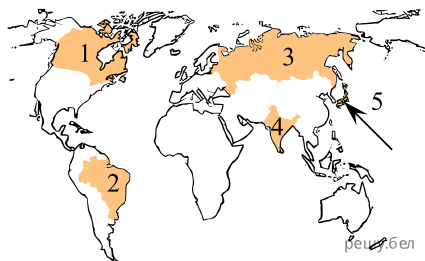
14. В пределах Белорусской антеклизы расположена:

- 1) Неманская низменность;
- 2) Полесская низменность;
- 3) Городокская возвышенность;
- 4) Оршанско-Могилевская равнина.

15.

Государство, которое входит в тройку ведущих стран по производству легковых автомобилей, на карте отмечено цифрой:

- 1) 1 2) 2 3) 3 4) 4
- 5) 5



Карта составлена по состоянию на 01.01.2020

16. Для населения Беларуси характерно(-а):

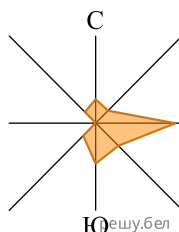
- 1) наличие в системе расселения молодых городов;
- 2) более высокая продолжительность жизни мужчин, чем женщин;
- 3) наличие сформированных городских агломераций вокруг всех областных центров;
- 4) возрастание густоты сельских поселений в направлении с севера на юг.

17. Постиндустриальное федеративное государство, в структуре экспорта которого доминирует продукция машиностроения и химической промышленности. Входит в тройку ведущих стран мира по производству легковых автомобилей. Столица данного государства —

Запишите столицу государства. Например: Минск.

18.

На рисунке по розе ветров преобладающим является ... направление ветра.



19. Установите соответствие.

ХАРАКТЕРИСТИКА ГОСУДАРСТВА

- А) федеративная республика, мировой лидер по производству кофе
- Б) республика с высоким уровнем экономического развития, крупнейший поставщик авиатехники на мировой рынок
- В) мировой лидер по добыче калийных солей
- Г) унитарная республика с крупнейшим в мире поголовьем овец

ГОСУДАРСТВО

- 1) Бразилия
- 2) Китай
- 3) Канада
- 4) США
- 5) Украина

Ответ запишите в виде сочетания букв и цифр, соблюдая алфавитную последовательность букв левого столбца. Не все данные правого столбца могут быть при этом использованы. Например: А2Б1В4Г5.

20. Установите соответствие между природными зонами, отмеченными на карте цветом и буквами, и их характеристиками:

ПРИРОДНАЯ ЗОНА



Карта составлена по состоянию на 01.01.2016

ХАРАКТЕРИСТИКА

- 1) распространены красноземы, желтоземы, красно-желтые ферралитные почвы
- 2) обитают белая куропатка, полярный волк, летом прилетают водоплавающие птицы
- 3) преобладающая травянистая растительность место обитания пумы, грызунов, пресмыкающихся
- 4) типичными представителями животного мира являются виргинский олень, черный медведь барibal, древесный дикобраз

Ответ запишите в виде сочетания букв и цифр, соблюдая алфавитную последовательность букв. Например: А2Б1В4Г3.

21. Система ... — сеть населенных пунктов определенной территории с разнообразными связями, которые установились между ними.

22.

Назовите залив Мирового океана, в пределах акватории которого на карте расположена точка.



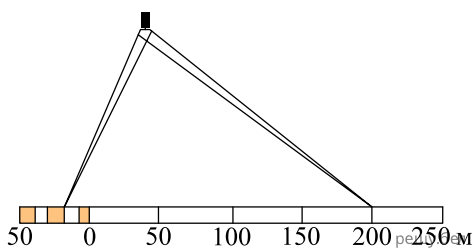
Карта составлена по состоянию на 01.01.2015

23. Резкое, имеющее взрывной характер увеличение численности населения вследствие перехода общества от традиционного к современному типу воспроизводства населения — это ... взрыв.

Дополните предложение и запишите ответ в виде слова (или нескольких слов) в той форме, в которой оно (они) должно(-ы) быть употреблено(-ы) в предложении.

28.

Расстояние между объектами, измеренное на карте с помощью циркуля-измерителя, на местности равно 220 м. Определите численный масштаб карты.



В ответ запишите знаменатель масштаба данной карты. Например: 10 000.

29. Установите соответствие между характеристиками климатических поясов Южной Америки и их местоположением, отмеченным на карте цифрами:

- А) зарегистрирован абсолютный максимум температуры воздуха на материке;
- Б) на западном побережье формируется морской климат с влажным прохладным летом и относительно теплой зимой;
- В) в течение года господствуют экваториальные воздушные массы;
- Г) отмечается сезонность распределения осадков, влажное лето и сухая зима, высокие температуры воздуха в течение года.



Карта составлена по состоянию на 01.01.2017

Ответ запишите в виде сочетания букв и цифр, соблюдая алфавитную последовательность букв. Например: А2Б1В4Г3.

30. Установите соответствие.

Национальный парк	Материк
А) Косцюшко	1) Африка
Б) Сан-Жуакин	2) Евразия
В) Серенгети	3) Австралия
Г) Гранд-Каньон (Большой Каньон Колорадо)	4) Южная Америка
	5) Северная Америка

Ответ запишите в виде сочетания букв и цифр, соблюдая алфавитную последовательность букв левого столбца. Помните, что не все данные правого столбца могут быть при этом использованы. Например: А2Б1В4Г5.

31. Установите соответствие.

Национальный парк	Материк
А) Ману	1) Африка
Б) Секвойя	2) Евразия
В) Крюгера	3) Австралия
Г) Большая пустыня Виктория	4) Южная Америка
	5) Северная Америка

Ответ запишите в виде сочетания букв и цифр, соблюдая алфавитную последовательность букв левого столбца. Помните, что не все данные правого столбца могут быть при этом использованы. Например: А2Б1В4Г5.

32. Установите соответствие.

Материк	Географический объект
А) Евразия	1) водопад Игуасу
Б) Северная Америка	2) река Лимпопо
В) Южная Америка	3) Йеллоустонский национальный парк
Г) Африка	4) вулкан Эребус
	5) река Кура

Ответ запишите в виде сочетания букв и цифр, соблюдая алфавитную последовательность букв левого столбца. Не все данные правого столбца могут быть при этом использованы. Например: А2Б1В4Г5.

33. Установите соответствие.

Материк	Географический объект
А) Евразия	1) национальный парк Мамонтова пещера
Б) Северная Америка	2) Онежское озеро
В) Антарктида	3) река Оранжевая
Г) Африка	4) озеро Маракайбо
	5) массив Винсон

Ответ запишите в виде сочетания букв и цифр, соблюдая алфавитную последовательность букв левого столбца. Не все данные правого столбца могут быть при этом использованы. Например: А2Б1В4Г5.

34. Установите соответствие между характеристиками и расположением государств, отмеченных на карте цифрами:

Характеристика государства

- А) государство, на территории которого расположена одна из крупнейших по мощности АЭС в мире — Брюс
- Б) постиндустриальное государство, входящее в тройку мировых лидеров по производству фармацевтической продукции
- В) одна из ведущих газодобывающих стран мира, входит в состав БРИКС
- Г) одна из мировых стран-лидеров по валовым сборам кукурузы, входит в состав интеграционного объединения МЕРКОСУР

- Государство
- 1) Индия
 - 2) Бразилия
 - 3) Польша
 - 4) США
 - 5) Канада

Ответ запишите в виде сочетания букв и цифр, соблюдая алфавитную последовательность букв левого столбца. Помните, что не все данные правого столбца могут быть при этом использованы. Например: А2Б1В4Г5.

35. Участок суши с избыточным увлажнением, вызванным атмосферными осадками и грунтовыми водами, с болотной сфагновой и осоковой растительностью и накоплением торфа — это ... болото.

Дополните предложение и запишите ответ в виде слова.

36. Установите соответствие:

Характеристика государства

- А) на территории государства расположена одна из крупнейших в мире по мощности АЭС — Брюс
- Б) входит в тройку ведущих производителей геотермальной электроэнергии
- В) республика, одна из тройки ведущих стран мира по количеству туристских прибытий

Государство

- 1) Индонезия
- 2) Франция
- 3) Канада
- 4) Япония

Ответ запишите в виде сочетания букв и цифр, соблюдая алфавитную последовательность букв левого столбца. Помните, что не все данные правого столбца могут быть при этом использованы. Например: А2Б1В4.

37. Вставьте в приведенном ниже тексте на места пропусков слова из предложенного списка, подходящие по смыслу.

Одним из главных факторов размещения предприятий целлюлозно-бумажного производства в Беларуси является (А) _____. Крупнейшим предприятием этой подотрасли является целлюлозно-бумажный комбинат в городе (Б) _____. В городе Слониме производят (В) _____. На базе обойных фабрик в городах (Г) _____ функционирует холдинг «Белорусские обои»

Список слов:

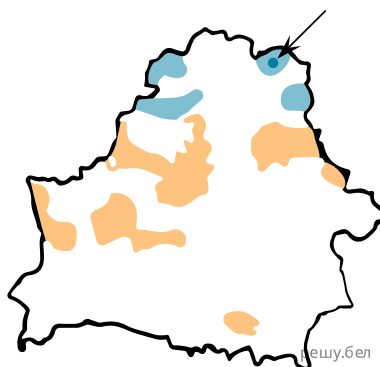
- 1) потребительский
- 2) водоресурсный
- 3) Борисов
- 4) Светлогорск
- 5) Минск и Гомель
- 6) Минск и Гродно
- 7) газетная бумага
- 8) бумага, картон, фотообои

Выбирайте слова последовательно, мысленно вставляя их на места пропусков в нужной форме. Помните, что не все слова могут быть использованы для ответа. Каждое слово может быть использовано только один раз. Ответ запишите в виде сочетания букв и цифр, соблюдая алфавитную последовательность букв. Например: А2Б1В4Г5.

38.

На картосхеме крупнейших возвышенностей Беларуси отмечена ... возвышенность.

В бланк ответов запишите название возвышенности. Например: Минская.



Карта составлена по состоянию на 01.01.2022